

Обязательная часть

1. Выбери из чисел наименьшее число. Отметь его .

19 15 18 16

2. Выполни действие. Запиши ответ.

$17 - 6 = \underline{\hspace{2cm}}$

3. Выполни действие. Запиши ответ.

$13 + 4 = \underline{\hspace{2cm}}$

4. Ёжики собрали кучку грибов. Каждый ёжик принёс по 1 грибку. Какую кучку собрали ёжики?

Отметь эту кучку .




5. Из коробки вынули сначала 5 шаров, затем вынули ещё 3 шара. Сколько всего шаров вынули из коробки?


Отметь ответ .

5 8 2 3

6. Какие детали на рисунке животного имеют форму треугольника? Отметь их .

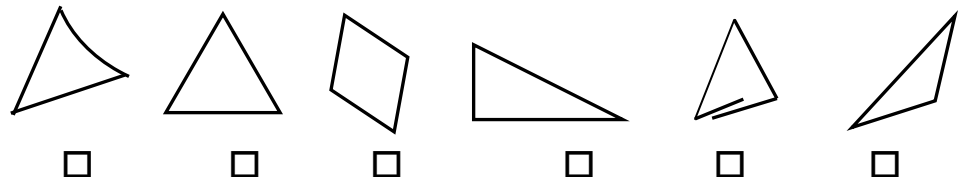


7. Рассмотрй рисунок. На сколько кроликов меньше, чем морковок? Запиши решение.



Решение: _____

8. Найди треугольники. Отметь их .




9. Карандаш стоит 6 рублей. Линейка на 2 рубля дешевле. Сколько стоит линейка?

Отметь ответ .

2 8 4 3

10. Коле надо пройти к дому. По какой дороге ему надо пойти, чтобы дерево было слева, а озеро – справа?

Обведи эту дорогу.



Дополнительные часть

11. Вася к большему числу прибавил меньшее и получил в ответе 7. Какие числа мог сложить Вася?

Запиши решения.

- _____
- _____
- _____

12. Лиза на клумбе вырастила цветы. Их больше 9, но меньше 12. Сколько цветов могла вырастить на клумбе Лиза?

Запиши **все** возможные варианты.

Ответ: _____

13. Ребята читали книги. В таблице указано, сколько страниц прочитал каждый.

Дети	Книги	
	«Винни-Пух»	«Золушка»
Варя	2	8
Игорь	5	2
Мила	4	5
Никита	6	7

Ответь на вопросы.

а) Сколько страниц книги «Золушка» прочитала Мила?

Отметь ответ .

4 3 5 7

б) Кто прочитал больше всего страниц книги «Винни-Пух»?

Отметь ответ .

Варя Игорь Мила Никита

в) Сколько всего страниц книги «Винни-Пух» прочитали девочки?

Ответ: _____

14. Петя рисовал 10 минут. Он нарисовал 2 розы и 1 цветок, похожий на облачко.

Сколько цветочков нарисовал Петя?

Запиши решение:

Ответ: _____