

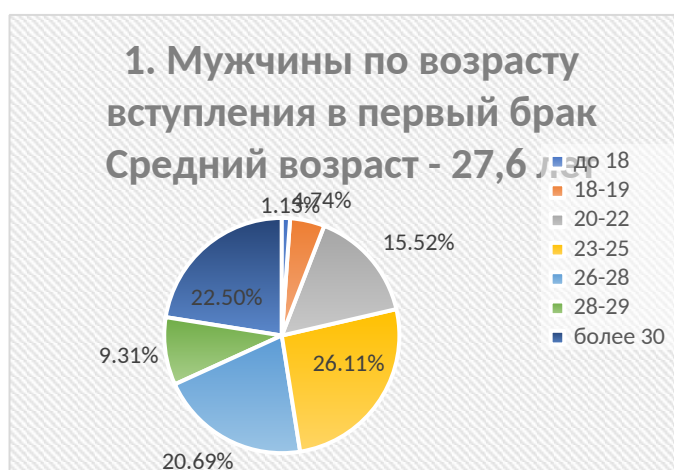
Всероссийская олимпиада школьников 2024-2025 учебный год  
**Школьный этап. Обществознание, 9 класс, задания.**  
Время выполнения 90 минут. Максимальное количество баллов 100

**Задание 1. «Да» или «нет»? Если вы согласны с утверждением, напишите «да», если не согласны – «нет». Внесите свои ответы в таблицу в бланке ответов.**

*Каждый правильный ответ – 2 балла. Всего за задание 20 баллов.*

- А) Наука систематизирует знания об окружающем мире.
- Б) Рыночная экономика, в отличие от других типов экономик, периодически подвержена кризисам.
- В) Этносы формируются только после возникновения государства.
- Г) К факторам производства относят капитал, землю, труд и предпринимательские способности.
- Д) Формами правления являются республика и монархия.
- Е) Христианство, ислам и буддизм относятся к мировым религиям.
- Ж) Ведущая роль сельского хозяйства характеризует индустриальное общество.
- З) Социальные конфликты всегда ведут к негативным последствиям.
- И) Безработица создает социальную напряженность в обществе.
- К) Центральный банк, в отличие от коммерческих банков, осуществляет эмиссию денег.

**Задание 2. Ознакомьтесь с инфографикой (РОССТАТ за 2022 год) и выполните задания.**



**Задание 2.1.** Для каждого предложения подберите подходящее окончание. Обратите внимание: окончаний дано больше, чем предложений. Ответы внесите в таблицу в листе ответов.

*За каждое правильное соответствие 1 балл. Всего за задание 5 баллов.*

1. Мужчины чаще всего вступают в первый брак...	А. ... в возрасте до 18 лет
2. Реже всего мужчины и женщины вступают в брак...	Б. ... до 29 лет
3. Примерно 13% женщин вступают в первый брак ...	В. ... в возрасте 18-19 лет
4. Почти 84% женщин выходят замуж...	Г. ... у мужчин выше, чем у женщин.
5. Средний возраст вступления в брак...	Д. ... до 25 лет
	Е. ... у женщин выше, чем у мужчин
	Ж. ... в возрасте 23-25 лет.

**Задание 2.2.** Укажите брачный возраст, установленный законом Российской Федерации. Какие вы можете назвать обстоятельства, препятствующие заключению брака по закону в РФ? Назовите любые 3 обстоятельства.

*За верно указанный возраст 2 балла, за каждое верно сформулированное обстоятельство - 2 балла. Всего за задание 8 баллов.*

**Задание 3.** Установите соответствие между факторами производства и факторными доходами. Обратите внимание: факторных доходов больше, чем факторов производства. Запишите ответы в таблицу в листе ответов.

*Каждое соответствие – 2 балла. Всего за задание 8 баллов.*

Факторы производства	Факторные доходы
1. Земля	А. Прибыль
2. Капитал	Б. Доход
3. Труд	В. Ресурсы
4. Предпринимательство	Г. Рента
	Д. Заработная плата
	Е. Процент

**Задание 4.** Проанализируйте ситуации и определите к какой отрасли права мы могли бы отнести представленные случаи, свои ответы запишите в бланке ответов.

*За каждую правильно названную отрасль права 3 балла. Всего за задание 15 баллов.*

А. Гражданин А. и гражданка Б. решили пожениться, заключить брачный договор и усыновить ребенка.

Б. Бабушка Н. регулярно переходила дорогу в неположенном месте, потому что ей было далеко идти до пешеходного перехода, за это она получила штраф.

В. Дедушка К. завещал трехкомнатную квартиру своему внуку.

Г. Отец и сын по предварительному сговору совершили разбойное нападение на ювелирный магазин и попытались скрыться на угнанном автомобиле, но были задержаны сотрудниками полиции.

Д. Студент И. заключил трудовой договор и устроился на работу в свободное от учебы время.

**Задание 5.** Рассмотрите картину русского художника Н.П. Богданова-Бельского «Устный счёт. В народной школе С.А. Рачинского» и выполните задания.



**5.1. Какой основной вид деятельности может быть проиллюстрирован данной картиной? Запишите ответ в бланк ответов.**

*За верный ответ 3 балла*

**5.2. Выберите верные суждения, которые соответствуют содержанию приведенной картины. Запишите ответ в бланк ответов.**

*За каждый верный ответ – 2 балла. За указание неверного ответа отнимается 1 балл. Всего за задание – 10 баллов*

- А) Науку, которые изучают дети на картине можно отнести к естественным наукам.
- Б) На картине изображен вид деятельности, направленный на приобретение человеком знаний, умений, навыков.
- В) Можно предположить, что дети, изображенные на картине, относятся к крестьянскому сословию.
- Г) Ученики, изображенные на картине, предположительно получают высшее образование.
- Д) Деятельность учителя можно отнести к интеллектуальному труду.
- Е) Можно предположить, что на картине изображена малая социальная группа – школьный класс.
- Ж) Социальная роль, которую исполняют все люди, изображенные на картине, - ученик.
- З) Если учитель, изображенный на картине, перейдет работать в другую народную школу с теми же условиями труда, то это будет примером горизонтальной социальной мобильности.

**Задание 6. Решите экономическую задачу.**




*За правильное решение с расчетами и объяснением 5 баллов.*

У Егора и Кристины есть накопленные деньги, по 300 тысяч рублей у каждого. Егор хранит деньги в сейфе дома. Кристина открыла вклад в банке под 10% годовых и вложила туда свои 300 тысяч рублей. Проценты начисляются ежемесячно. Капитализация вклада не осуществляется, то есть каждый месяц проценты начисляются только на исходную сумму 300 тысяч рублей. Насколько больше денег будет у Кристины на вкладе, чем у Егора в сейфе через полгода?

**Приведите необходимые вычисления.**

**Задание 7. Сопоставьте виды культур и пример. Результаты сопоставления внесите в таблицу в бланке ответов.**

*За каждое правильное сопоставление 1 балл. Всего за задание 3 балла.*

<p>А) Народная культура</p>	<p>1. </p>
<p>Б) Массовая культура</p>	<p>2. </p>
<p>В) Элитарная культура</p>	<p>3. </p>

**Задание 8. Решите задачу. Заполните недостающие ячейки таблицы в бланке ответов.**

Государства X, Y и Z граничат между собой. Известно, что в государствах X и Y одинаковая форма правления, она отличается от формы правления в государстве Z, и это не республика.

Государство Z разделено на провинции, в которых действуют выборные губернаторы, и в каждой провинции существует собственное законодательство. Государство X – унитарное государство, а в государстве Y территориальные части не имеют самостоятельности, а органы власти в территориальных частях подчинены единому центру.

В государствах X и Z демократический режим, а в государстве Y он не демократический и не авторитарный, там власть обладает неограниченными полномочиями, отсутствуют права и свободы человека, а политическая оппозиция подвержена массовым репрессиям.

Определите форму правления, форму государственного устройства и политический режим в странах X, Y и Z.

*За каждый верно заполненный пропуск – 1 балл. Всего за задание 6 баллов.*

### **Задание 9. Прочитайте текст и ответьте на вопросы**

Дистанционная торговля прочно вошла в нашу повседневную жизнь и с каждым годом завоевывает все большую популярность. Как удобно, не покидая дома или своего рабочего места, получить искомый товар непосредственно по месту своего нахождения. Но поскольку данный метод продаж вошел в нашу жизнь недавно, то необходимо знать о некоторых особенностях, отличающих дистанционную торговлю от продажи товаров в стационарных местах торговли.

Продажа товаров дистанционным способом подразумевает, что у потребителя нет возможности ознакомиться ни с самим товаром, ни с образцом товара до момента его получения. А ознакомление происходит исключительно при помощи коммуникативных средств, таких как каталоги, почтовые рассылки, рекламные объявления, телефон, телевидение и т. п. Также при совершении сделки обе стороны не встречаются лицом к лицу. Любая продажа, осуществленная без непосредственного присутствия продавца, на основании информации, взятой из каталогов, телевидения, радио, интернет-ресурсов, рекламных буклетов, будет причислена к разряду дистанционных продаж.

При принятии решения о покупке товара дистанционным методом особое внимание следует уделить информации, которую предоставляет продавец о себе, товаре и об условиях покупки. Если информация неполная или недостоверная, то следует воздержаться от покупки у этого продавца.

Если в предложении или при доставке товара не указывается фирменное наименование продавца, а также его адрес, а только указаны контактные телефоны, то стоит воздержаться от покупки. В противном случае если возникнет необходимость вернуть, обменять товар или предъявить рекламацию по недостатку, то вы не будете знать, куда обратиться и предъявить претензию к покупке (товару).

Покупатель имеет право отказаться от товара в течение семи дней или, при непредоставлении информации об условиях возврата, в течение трех месяцев с момента передачи ему товара. Основное здесь — сохранение товарного вида и потребительских свойств.

*(По материалам интернет-сайта Общества защиты прав потребителей)*

**9.1. В чём состоит удобство дистанционной торговли, по мнению автора? Ответ запишите в бланке ответов.**

*За верный ответ – 2 балла*

**9.2. При помощи каких коммуникативных средств происходит ознакомление с товаром при дистанционной торговле? Приведите 5 примеров. Ответ запишите в бланке ответов.**

*За каждый верный пример – 1 балл. Всего за задание 5 баллов максимум.*

**9.3. Какой информации, по мнению автора, следует уделить особое внимание при покупке товара дистанционным способом? Ответ запишите в бланке ответов.**

*За верный ответ – 2 балла*

**9.4. В течение какого времени покупатель имеет право отказаться от товара при непредоставлении информации об условиях возврата? Ответ запишите в бланке ответов.**

*За верный ответ – 2 балла*

**9.5. Пользуясь обществоведческими знаниями и личным социальным опытом составьте 6 правил безопасности для покупок в Интернете. Ответ запишите в бланке ответов.**

*За каждое верно составленное правило – 1 балл. Всего за задание до 6 баллов.*